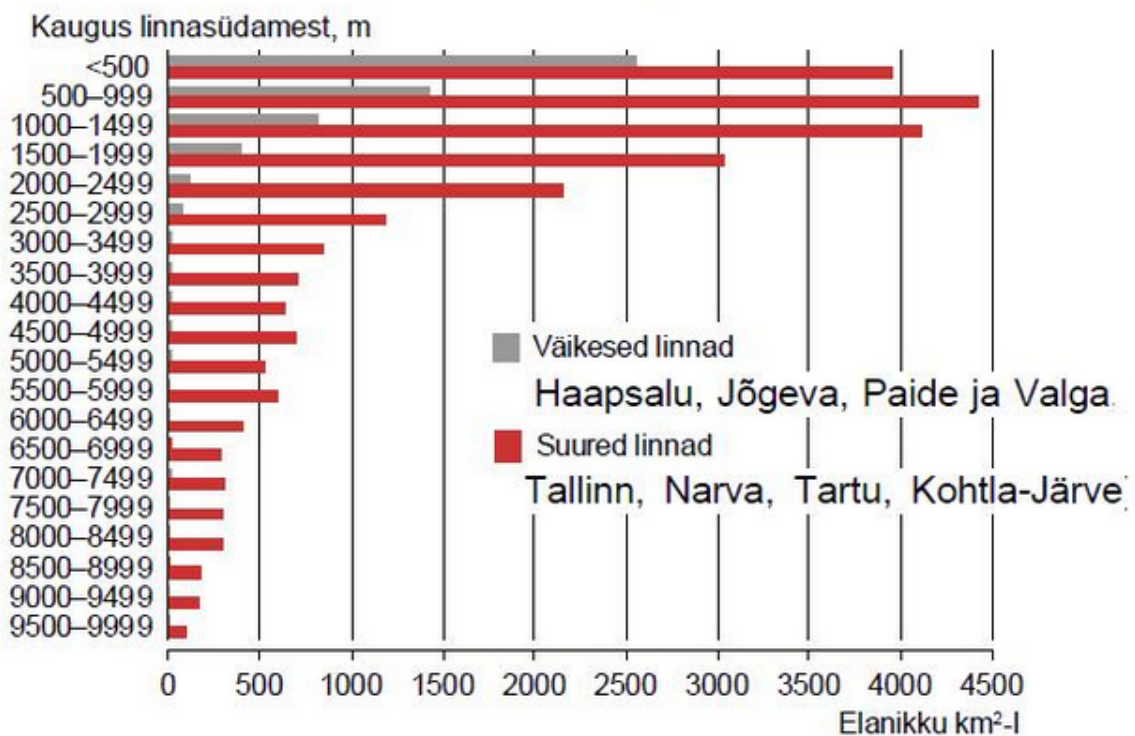


9. klassi kirjalik töö (arvutis)

1. Viimasel ajal on kasvanud paljude riikide huvi Arktika vastu. Nimeta kolm põhjust, miks on Arktika riikide huviorbiidis.
2. Võrrelge asustustiheduse muutumist linnasüdamest kaugenemisel väikestes ja suurtes linnades. Nimetage erinevuse põhjusi.

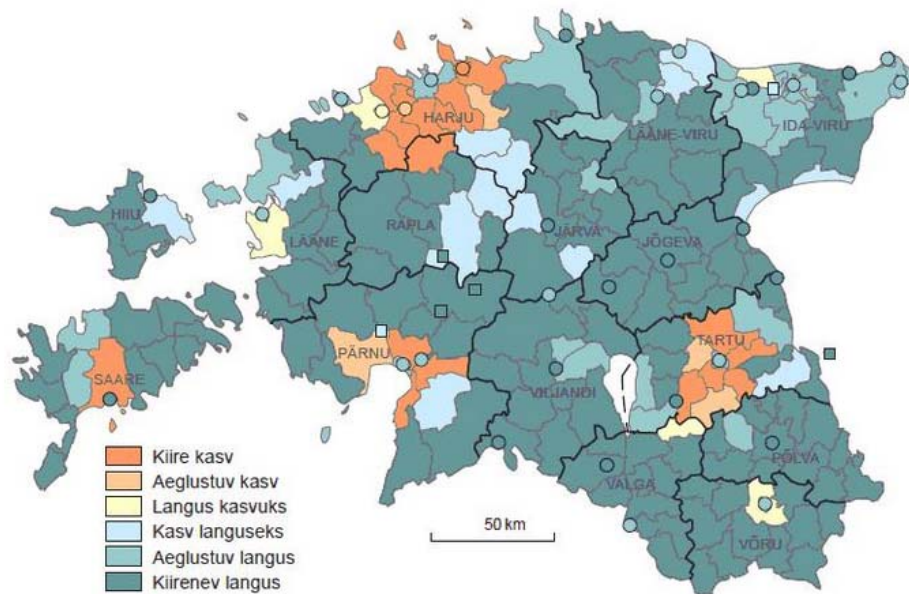
Asustustihedus linnasüdamest kaugenemisel, 31.12.2011



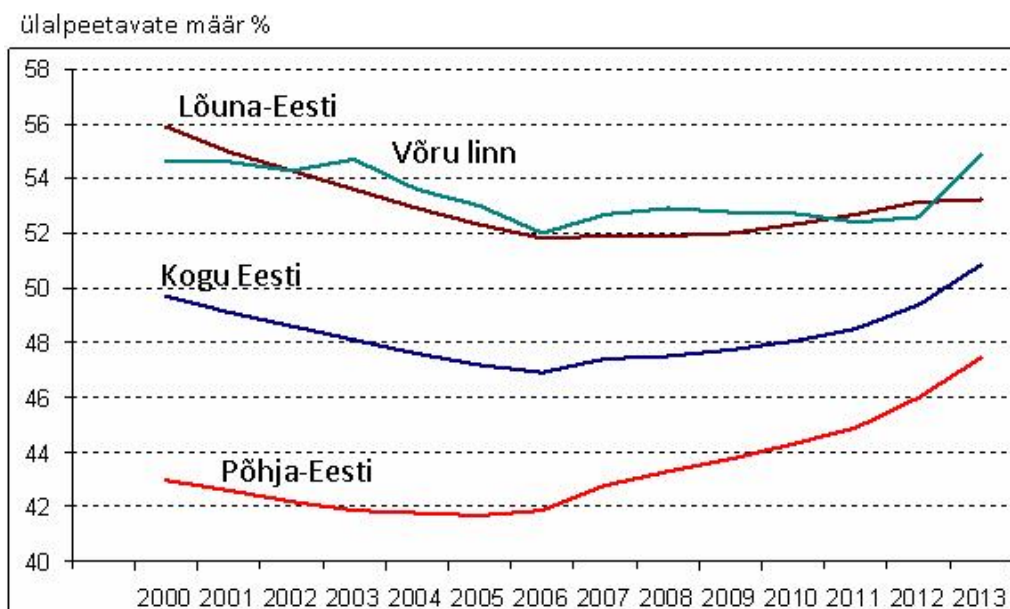
3. Eesti otsib võimalusi liikumaks konkurentsivõimelisema madala süsinikuga majanduse suunas. Transport on üks majandussektor, kust paiskub õhku suurtes kogustes CO₂. Nimetage põhjusi, miks Eesti transpordisektor ei ole tõhus.

4. Analüüsi rahvaarvu muutumise piirkondlikke erinevusi Eestis.

Linnade ja valdade rahvaarvu muutumise muster, 1989–2011



5. Analüüsi ülalpeetavate määra muutumist Eestis keskmiselt, Põhja- ja Lõuna-Eestis ning Võrus.



6. Analüüsi kahe kaardi (vastavalt aastast 1935 ja 2010) põhjal Võru ruumilist arengut. Too välja tegurid, mis on seda eelkõige mõjutanud.

