

Planeerimisülesanne

1. Vaata 1976. aasta Paide linna generaalplaani (KAART 3). Otsi üles tabelis toodud objektid ja kirjuta (numbriga), kuidas on nende funktsioonid muutunud (mis oli algne funktsioon ja milline on tänane?)

6p

Objekt 1976. aasta kaardil	Mis funktsiooni täitis?	Mis on seal täna, mis funktsiooni täidab?
1. „Kalevi“ võimla		
6. Paide II keskkool (venekeelne)		
8. Pioneeride palee, raamatukogu		
9. Lasteaed		
14. Koduloomuuseum		
17. Paide katlamaja korstnaga		
22. Paide rajooni keskhaigla		
23. Paide lastehaigla		
40. Paide linna täitevkomitee		
42. ETKVL kaubandus-keskus, söökla, restoran		
60. EKP Paide rajoonikomitee		
65. Paide luteriusu kirik		
66. Paide vene kirik		
68. Paide külanõukogu		
84. Tuletõrjedepoo		
100. Laululava		

- Pere- ja ridaelamumaa** all mõistetakse ühepereelamumaad ja ridaelamumaad kompaktsel hoonestusega aladel. Alale võivad jääda elamuid teenindavad ehitised (garaažid, kuurid), sh teed ja tehnorajatised, samuti elamute lähiümbruse puhke- ja spordiotstarbeline maa ning rajatised.
- Korterelamumaa** all mõistetakse kahe- või enamakorruseliste korterelamute maad. Korterelamute alumistel korrustel võivad paikneda äri- ja bürooruumid ning üldkasutatavad ruumid. Alale võivad jääda elamuid teenindavad ehitised, sh teed ja tehnorajatised, samuti elamute lähiümbruse puhke- ja spordiotstarbeline maa ning rajatised.
- Äri- ja büroo- ja hoonete maa** all mõistetakse käesolevas planeeringus kaubandus, teenindus-, toitlustus- ja majutushoonete maad, büroo- ja kontorihoonete maad.
- Tootmis- ja ärimaa** all mõistetakse tootva ja ümbertöötleva tootmisega seotud hoonete, neid teenindavate abihoonete ja rajatiste maad, mille puhul tuleb arvestada tootmisprotsessi võimaliku mõjuga ümbritsevale keskkonnale. Kõikidele olemasolevatele ka kavandatavatele tootmismaadele antakse mitmekesisema arengu võimaldamiseks ärimaa kõrvalfunktsioon, st et ala võib arendada kas tootmise või ärimaa funktsioonil või nimetatud funktsioonide kombinatsioonina.
- Üldkasutatava hoone maa** all mõistetakse tervishoiu ja hoolekandeasutuse; teadus-, haridus- ja lasteasutuste; spordi-, kultuuri- ja kogunemisasutuste: usu- ja tavandiasutuste maad.
- Puhke- ja virgestusmaa** all mõistetakse heakorrastatud haljas- ja metsaala, kuhu on ehitatud minimaalselt teenindavaid ehitisi (puhke-, spordi-, kogunemisehitisi), et võimaldada välisõhus sportimist ja lõõgastumist, kasutamist väljasõidukohtadena, vabaõhuürituste korraldamist jms.
- Tehnoehitiste maa** all mõistetakse käesolevas planeeringus inimese elu- ja tootmistegevust toetava tehnilise infrastruktuuri hoonete ja rajatiste juurde kuuluvat maad. Siia kuuluvad sideteenust pakkuvad, energiat tootvad ja jaotavad, puhast vett tootvad ja jaotavad ning reoveepuhastusega tegelevad ettevõtted.
- Jäätmeäritluse maa** all mõistetakse käesolevas planeeringus jäätmeäritluse (jäätmete kogumise, ladustamise ja ümbertöötlemise) ala ning sellega seotud hoonete ja rajatiste maad.
- Supelranna maa** all mõistetakse käesolevas planeeringus supelrandu nõuetekohase teenindusega.
- Kalmistumaa** all mõistetakse käesolevas planeeringus matmispaika, mis kultuuri- ja keskkonnaobjektina mõjutab külgnevate alade kasutus- ja ehitustingimusi.
- Riigikaitsemaa** all mõistetakse käesolevas planeeringus riigi kaitsejõudude, piirivalve, tolli, politsei, kinnipidamiskohtade jt. valitseda olevat maad.
- Objekt on likvideeritud**
- Pole praegu kasutusel**

2. Tähistä kaardil (KAART 2) fotodel olevate objektide pildistamiskohad ja pildistamissuund
Vastavalt tähtede F1, F2, F3 ja sümboliga ● →

4p



1.



2.



3.

4. Ees- ja perekonnanimi (loetavalt).....

3. Türi—Paide kitsarööpmeline raudteeharu ehitati koos Tallinna—Viljandi liiniga 1900 aastal. 1920. aastatel pikendati liini Paidest Tamsaluni. Raudtee oli kasutusel 1972. aastani, siiski on see märgitud ka 1974. aasta Paide linna generaalplaani.

a) Tähista kaardil (KAART 1) kunagise raudtee asukoht (1976. a. kaardi piires).

b) Millised funktsioonid on raudtee trassil tänapäeval.

4p

4. Tee üldistus. Milline kaardil (KAART 1) olev piirkond on oma funktsiooni kõige enam muutnud, milline üldse mitte ja milline natuke.

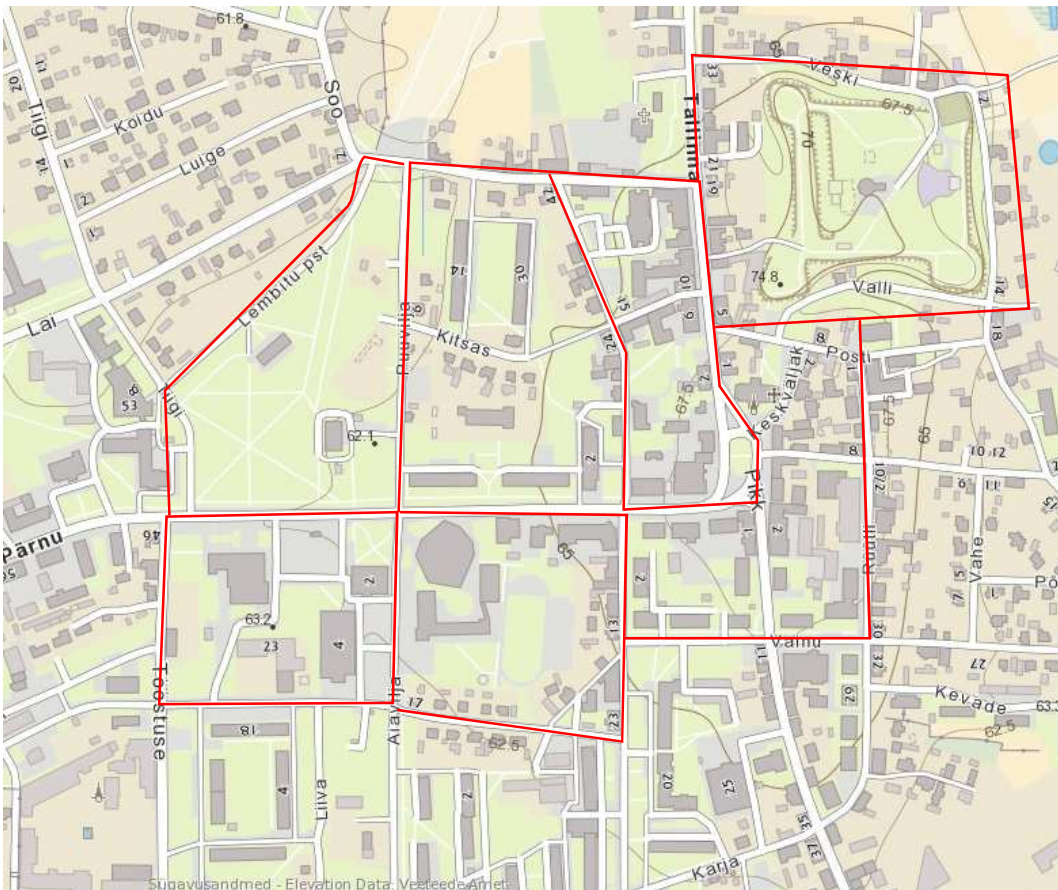
4 p

Kasuta tähistamiseks: sarnane funktsioon - pikiviirutus;

natuke muutunud - ristiviirutus;

palju muutunud - kaldviirutus.

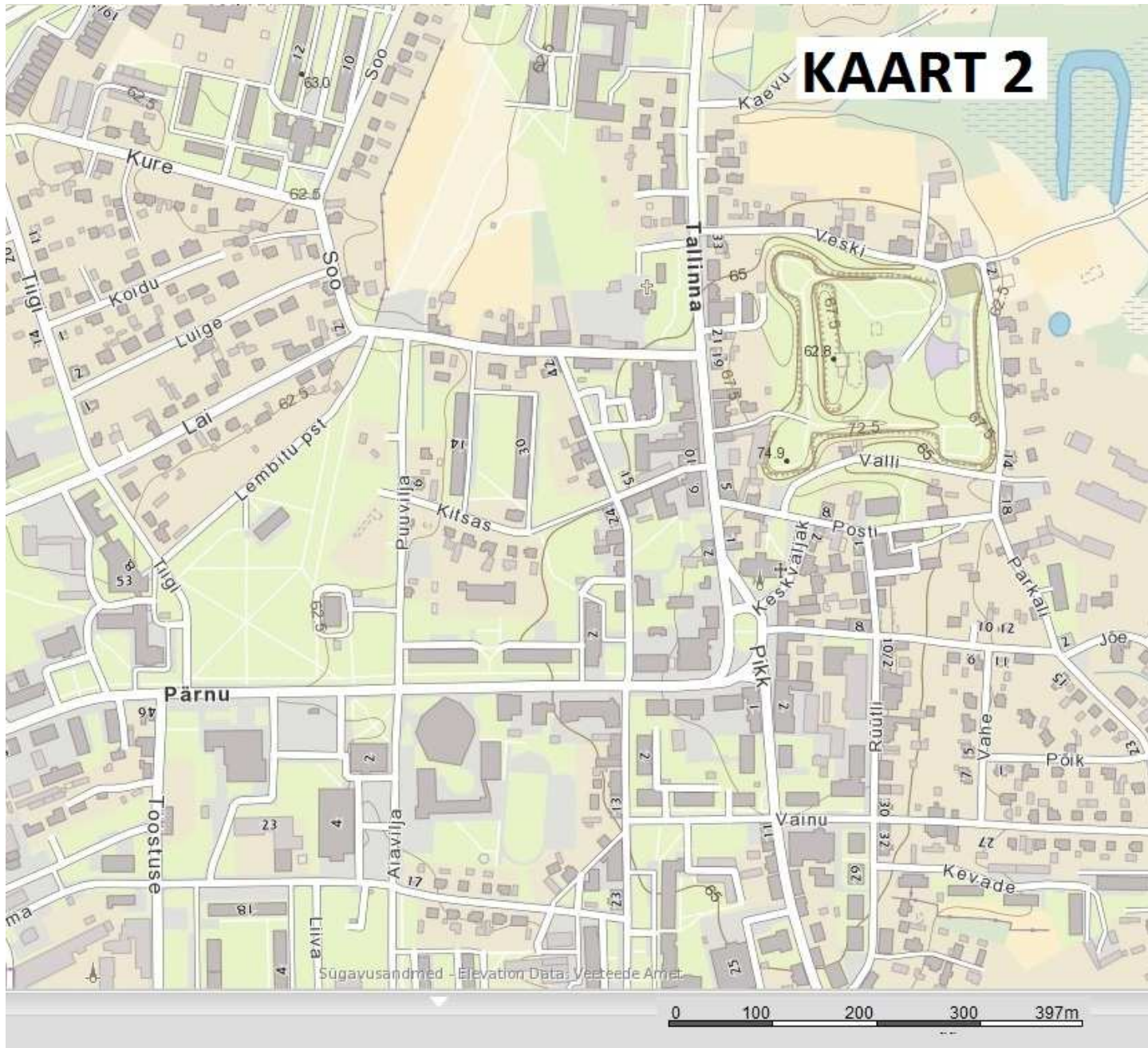
KAART 1



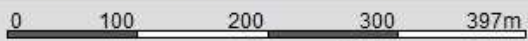
5. Paide linn soovib rajada linna külastajatele ja ka oma elanikele umbes 2 km pikkuse *kultuuritee*, mida läbides saaks hea ülevaate Paide linnast ja selle arengust. Kultuuriteel peaks olema nii vaatamist kui tegutsemist suurtele ja väikestele, võimalust keha kinnitada ja jalga puhata. 12p
- a) Joonista Paide kaardile (KAART 2) umbes 2 km pikk *kultuuritee* (eksimine üle +/- 10% võtab punkte maha). Näita selle algus ja lõpp-punkt ning soovitatav liikumissuund.
 - b) Tähista teekonnal numbritega objektid, mida tasuks kindlasti külastada. Lisa legendi objektid koos numbri ja nimetusega.
 - c) Lisa vajadusel mõni infrastruktuuri objekt ja tähista see legendis.
 - d) Kasuta maastikul planeerides mustandkaarti (must-valge) ja vormista töö korralikult värvilisele Paide kaardile (KAART 2).

KAART 2

Legend



Sügavusandmed - Elevation Data: Veeteede Amet



Ees- ja perekonnanimi

KAART 3

