


Nimi:	Kool:
-------	-------

Start:	Finiš:	Raja läbimise aeg:
Punkte:	Karistuspunktid aja ületamise eest:	Punkte kokku:

**Raja läbimise kontrollaeg on 2 tundi 30 min. Iga hilinenud minuti eest kaotab võistleja 0,5 punkti. Mobiiltelefoni ei tohi maastikuvõistlusel kasutada! Hea, kui saad rajale kaasa võtta kella, et korraldada oma liikumisi ja vältida kontrollaja ületamist.**

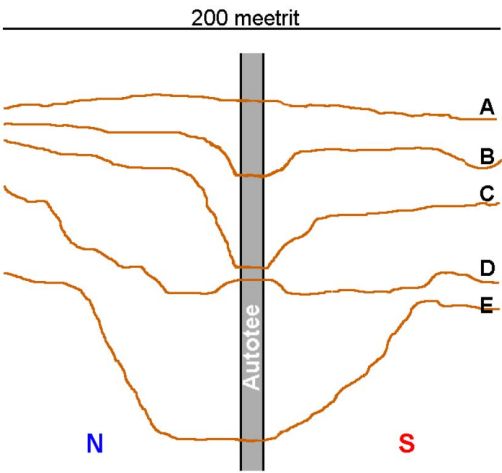
**Ole tänavatel liikudes ettevaatlik!**

1. Mis on kaardi 1 mõõtkava? Mõõtkava on ..... (2p)	
2. Tähista Kaardil 1 Pilt 1 ja Pilt 2 pildistamiskohad ja märgi noolega pildistamise suund (2p) Vastavalt tähtede P1, P2 ja sümboliga 	
3. Kaardistada Kaardil 1 punase joonega piiratud maa juhtfunktsioonid mustade ringide sisse (8p) <b>1 Pere- ja ridaelamumaa</b> - ühepereelamumaa ja ridaelamumaa kompaktse hoonestusega aladel. Alale võivad jääda elamuid teenindavad ehitised (garaažid, kuurid), sh teed ja tehnorajatised, samuti elamute lähiümbruse puhke- ja spordiotstarbeline maa ning rajatised. <b>2 Kortereelamumaa</b> - kahe- või enamakorruseliste kortereelamute maa. Alale võivad jääda elamuid teenindavad ehitised, sh teed ja tehnorajatised, samuti elamute lähiümbruse puhke- ja spordiotstarbeline maa ning rajatised. <b>3 Äri- ja büroohonete maa</b> - kaubandus, teenindus-, tootlustus- ja majutushoonete maa, büroo- ja kontorihoonete maa. Osaliselt võib paikneda hoonetes ka eluruumi. <b>4 Tootmis- ja ärimaa</b> - tootva ja ümbertöötleva tootmisega seotud hoonete, neid teenindavate abihoonete ja rajatiste maa, mille puhul tuleb arvestada tootmisprotsessi võimaliku mõjuga ümbritsevale keskkonnale. <b>5 Üldkasutatav maa</b> - tervishoiu ja hoolekandeesutuse; riigi ja kohaliku omavalitsuse ametiasutuste; haljasala, pargi teadus-, haridus- ja lasteasutuste; äriotstarbeta meelelahutus-, tervishoiu-, hoolekande-, puhke- ja spordiehitiste; usuasutuste maa. <b>6 Puhke- ja virgestusmaa</b> - heakorrastatud haljas- ja metsaala, kuhu on ehitatud minimaalselt teenindavaid ehitisi (puhke-, spordi-, kogunemisehitisi), et võimaldada välisõhus sportimist ja lõõgastumist, vabaõhuürituste korraldamist jms. <b>7 Tehnoehitiste maa</b> - inimese elu- ja tootmistegevust toetava tehnilise infrastruktuuri hoonete ja rajatiste juurde kuuluv maa. Siia kuuluvad sideteenust pakkuvad; energiat ja vett tootvad ja jaotavad ning reoveepuhastusega tegelevad ettevõtted. <b>8 Riigikaitsemaa</b> - riigikaitse, piirivalve ja päästeteenistuse otstarbel kasutatav maa <b>9 Jäätmeäitluse maa</b> - jäätmeäitluse (jäätmete kogumise, ladustamise ja ümbertöötlemise) ala ning sellega seotud hoonete ja rajatiste maad. <b>10 Supelranna maa</b> - supelrannad nõuetekohase teenindusega. <b>11 Ümber kavandatud ala</b> <b>12 Hetkel kasutusest väljas</b>	
4. Kirjuta tähtedega tähistatud hoonete praegune kasutus (nt kool, vallavalitsus vms) (3p)	
5. Joonesta Kaardile 1 puuduv skatepark (2p)	
6. Põlvasse rajatakse hetkel keskväljakut. Tõmba Kaardil 1 maha hooned, mis on keskväljaku ehitamisega maha lammutatud ja märgi kaardil keskväljaku ala (3p).	
7. Kas Põlva järv on tehisjärv või looduslik? Põhjenda, mille järgi saad otsuse looduses teha (2p)	
8. Linnades esinevad teatud avaliku ruumi osad, kus liikudes inimesed ei pruugi ennast turvaliselt tunda. Tihti on nendes kohtades veidi piiratud nähtavus ja valgustus, kehv hooldatus ning nad ei pruugi olla väga käidavad kohad. Viiruta Kaardil 1 kolm sellist ala ja too välja kolm ettepanekut, kuidas neid alasid turvalisemaks muuta (3p)	
9. Lisalehelt leiad Kesk tänavaga risti joonistatud kõrguste profiiljooned (A, B, C, D, E). Kõrval on ka kaart profiilide asukohtadega. Kirjuta iga ringi sisse õige profiiljoone täht. (5p)	

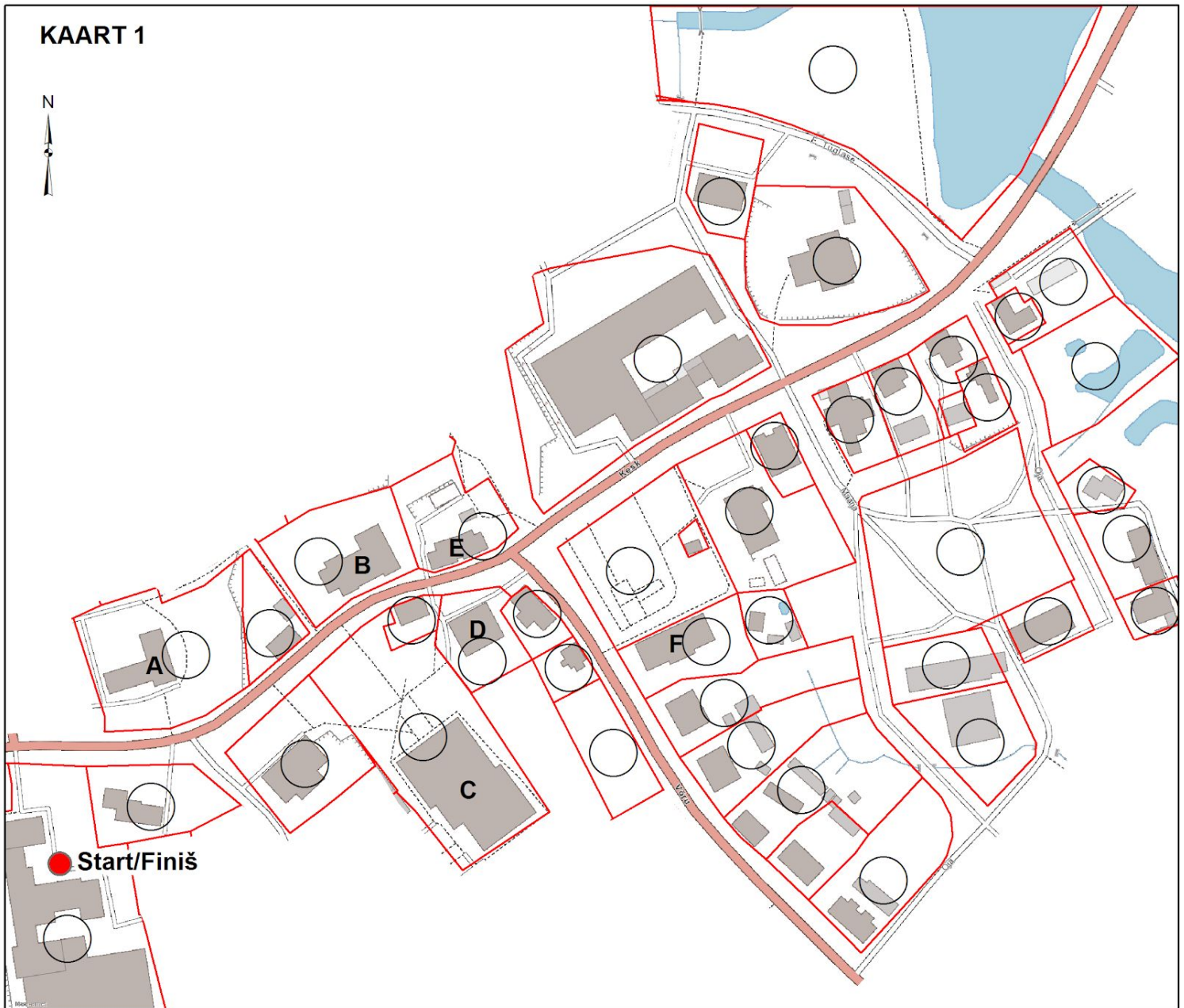
Nimi:	Kool:
-------	-------



9. Kesk tänavaga risti joonistatud kõrguste profiiljooned (A, B, C, D, E). Kõrval on kaart profiilide asukohtadega. Kirjuta iga ringi sisse õige profiiljoone täht.



Nimi:	Kool:
-------	-------



**Hoonete funktsioonid**

- A -
- B -
- C -
- D -
- E -
- F -