

Nimi: Kool: Õpetaja:

Geograafiaolümpiaadi lõppvoorü küsimused 7. klassile

1. Selgita laamade liikumisele tuginedes, kuidas on tekkinud järgmised mäestikud: 6p

a) Atlandi ookeani keskmäestik

.....

b) Andide mäestik

.....

c) Himaalaja mäestik

.....

2. Mille poolest erineb süvik riftist? 2p

.....

3. Jooni alla riigid, kus esineb sageli tugevaid maavärinaid. 3p

Brasiilia, Indoneesia, Angola, Filipiinid, Kreeka, Costa Rica, Madagaskar, Laos, Armeenia, Taani, Ida-Timor.

4. Vaata pildilehel joonist 1, mis infot saad välja lugeda kaardil kujutatud maavärina kohta? 3p

.....

.....

.....

5. Krasnojarskis on kellaeg 7 tundi ja Ürümqis 8 tundi maailmaajast ees. 2p

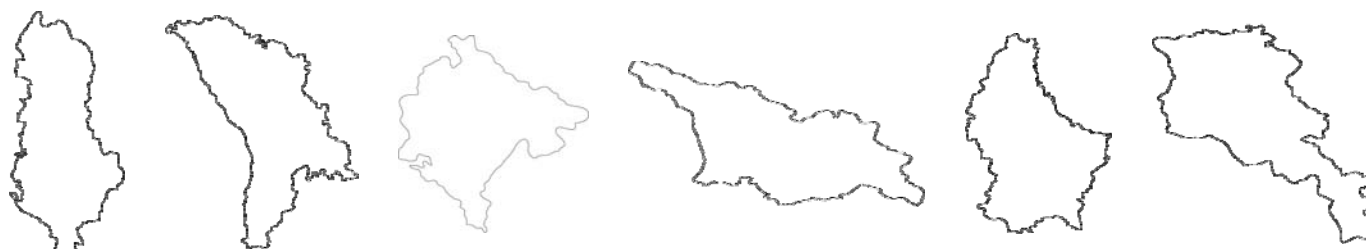
a) Kummas linnas tõusis täna päike varem? Põhjenda.

.....

b) Kummas linnas on päev praegu pikem? Miks?

.....

6. Joonisel on kujutatud kuus Euraasiasse jäävat riiki (erinevas mõõtkavas). Nimeta riik, mis on neist: 4p



a) suurima pindalaga –

b) suurima asustustihedusega –

c) kõige tasasema pinnamoega –

d) kus on sademete hulga maailmajao rekord –

7. Leia väidete põhjal, mis riikidega on tegemist ja paiguta kõik väited (kirjuta vastav täht) õige riigi juurde. 6p

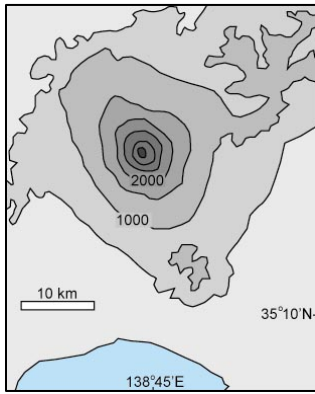
Riik
Väide				

- a) Kõige suurema merekaubalaevastikuga riik maailmas.
- b) Riigi pealinn asub samanimelise lahe ääres.
- c) Kõige hõredama asustusega riik maailmas.
- d) Riik paikneb rohkem kui 17 000 saarel.
- e) Kellaaeg on maailmaajast 5 tundi taga.
- f) Pealinnas elab üle 10 miljoni inimese.
- g) Selles riigis on mõõdetud antud maailmajao kõige madalam temperatuur.
- h) Riigi kõrgeim tipp on üle 4 km üm.
- i) Riigis leidub mitmeid soolajärvi.
- j) Riik paikneb läänepoolkeral.
- k) Piirneb kahe ookeaniga.
- l) Riigi lipul on viisnurk.

8. Milliseid kuulsaid paiku on kujutatud joonistel? 4p

Lisa kummagi kohta üks geograafiline fakt, mis seda

paika iseloomustab.



.....


.....

.....

.....

.....

.....



.....

.....

.....

.....

.....

.....

9. Vaata pildilehel joonist 2, fotol kujutatud koht jääb kaardil tähistatud ringi keskele. Mis loodusnähtust on fotol kujutatud? 1p
 Selgita, miks just seal see loodusnähtus nii ilmekalt esineb. 2p



.....

.....

10. Vaata pildilehel joonist 3, kuidas on tekkinud fotodel kujutatud pinnavormid? 4p

A:

.....

B:

.....

11. Vaata pildilehel joonist 4, millistes Eestimaa piirkondades rahvaarv kasvab ja kus kahaneb. Miks? 2p

Kasvab, sest

.....

Kahaneb, sest

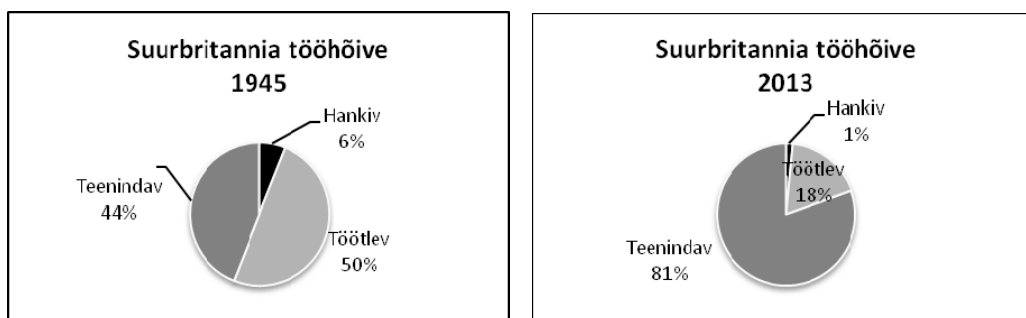
.....

12. Majandusliku tegevuse saab jaotada hankivaks, töötlevaks ja teenindavaks. Hankiv majandus tegeleb eluks vajalike ainete hankimisega loodusest. Enamik hankiva majanduse toodangust tuleb ümber töödelda. Selleks on töötlev majandus: tööstus ja ehitus. Muud majandustegevuse alad kuuluvad teenindavasse majandusse. Paiguta järgmised majandustegevused õigesse tabeli lahtrisse: 4p

Hankiv	Töötlev	Teenindav

a) Kartuli kasvatamine, b) pangaülekanded, c) autode tootmine, d) hammaste ravimine, e) juustu valmistamine, f) kalapüük, g) raudtee ehitamine, h) kanga kudumine.

13. Joonistel on näha, millistes majandusharudes töötasid Suurbritannia inimesed 1945. a. ja millistes nüüd. 4p



Millised muutused on tööhõives toimunud?

Mis on selliste muutuste põhjused?

14. Võrdle kolme linna. Otsusta, mis näitajatele tuginedes seda teha. 6p

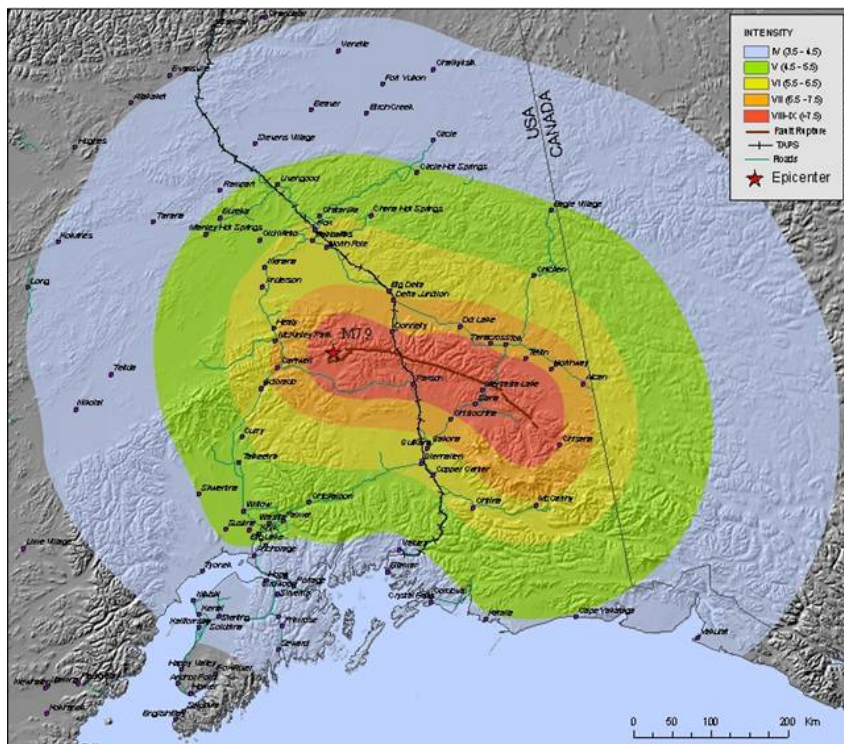
Näitaja	New Orleans	Kairo	Astrahan

15. Vaata pildilehel joonist 5, kus on kujutatud Eestimaa rahvusparkide logosid. Vii iga logo kokku vastava rahvuspargiga ja põhjenda lühidalt oma valikut. 5p


- A:
- B:
- C:
- D:
- E:

PILDILEHT


Joonis 1



Joonis 2

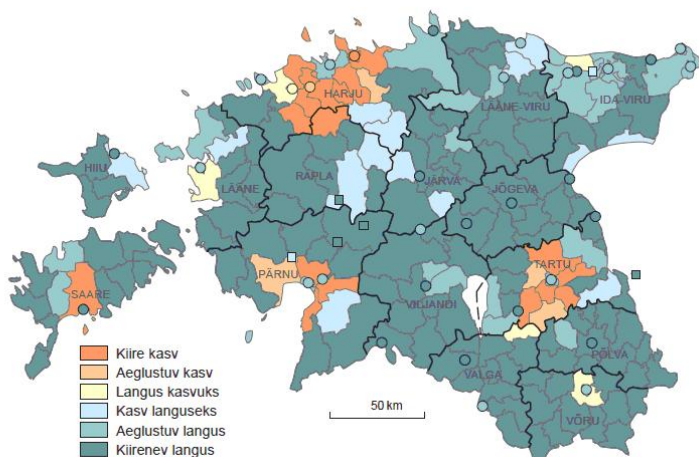


Joonis 3



Joonis 4

Linnade ja valdade rahvaaru muutumise muster, 1989–2011



Joonis 5

