

Nimi..... Kool

Kirjuta vastused palun loetava käekirjaga. Kui käekiri on loetamatu, siis vastust ei arvestata.

Geograafiaolümpiaadi lõppvooru küsimused 8. klassile

1. Praktiline töö. TAIMEDE TUNDMINE 4p
2. a) Kuidas kutsutakse lisalehe piltidel kujutatud peakatteid? b) Mis loodusvööndites selliseid kantakse? 6p
Miks?
1. Mütsi nimi, mis loodusvööndis,
Miks
2. Mütsi nimi, mis loodusvööndis,
Miks
3. Mütsi nimi, mis loodusvööndis,
Miks
4. Mütsi nimi, mis loodusvööndis,
Miks
3. Vaata lisalehelt kaarti 1. Mida on sellel kaardil kujutatud? 2p
.....
4. Millised järgmistest väidetest on õiged. Paranda valed väited õigeks ilma eitust kasutamata. 4p
- A. Venemaal ja Hiinal on võrselt maismaanaabreid. Tõene/Väär
- B. Usbekistani ja Liechtensteini elanikel tuleb mere äärde jõudmiseks läbida 3 riigi territoorium. T/V
- C. Euroopa riigil Kosovol on 3 naabrit- Montenegro, Serbia, Albaania. Tõene/Väär
- D. Paljude saarte, lahtede ja väinade tõttu on Kanadal kõige pikem rannajoon. Tõene/Väär
5. Igas loetelus on üks loodusobjekt, mis ei sobi teistega kokku. Tõmba see maha ja leia teistele ühine nimetaja. 5p
- Mekong, Niilus, Ob, Ganges, Volga -
- Kaspia meri, Must meri, Araali meri, Surnumeri -
- Punane meri, Kollane meri, Läänemeri, Vahemeri -
- Andid, Alpid, Apalatsid, Kaukasus, Kordiljeerid-
- Hokkaido, Island, Madagaskar, Hawaii -
6. a) Haapsalu, Võru ja Tartu on üleujutusrisi piirkonnad. Selgita, mis on peamiseks üleujutuse põhjuseks nimetatud linnades? 3p
- Haapsalu
- Võru
- Tartu
- b) Miks sellel kevadel ujutas Pärnu jõgi üle ulatuslikud alad Sindi ja Paikuse ümbruses? 2p
-
-

7. Mis loomi on lisalehe pildidel A, B ja C kujutatud? Kirjuta toodud faktide ees olev number õige looma nimetuse juurde. 6p

elab Hiina idaosas, poega kasvatab kukrus, toitub eukalüpti lehtedest, elab Kesk- ja Lõuna-Ameerikas, elab Austraalias, kõige enam meeldib süüa bambuse noori võrseid, on looduskaitse all, on ööloom

A. faktid

B. faktid

C. faktid

8. a) 11. märtsi 2011.a. maavärin toimus Jaapanis kohaliku aja järgi 14.46. Ülemaailmsesse maavärinate andmebaasi märgitakse iga maavärina toimumine maailmaaja järgi. Mis kellaeg märgiti selle maavärina puhul andmebaasi? 2p

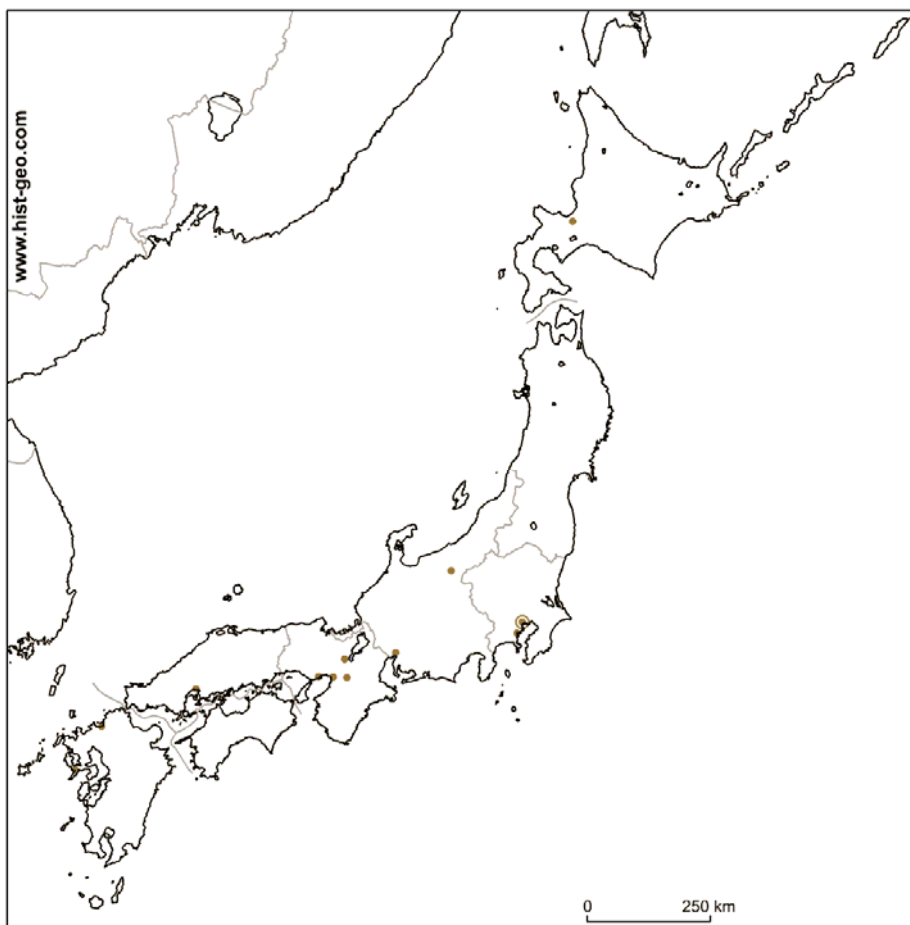
b) Joonista Jaapani kaardile laamade piirid ja näita noolega, kuidas laamad selles piirkonnas liiguvad. 2p

c) Maavärina epitsenter asus Jaapani pealinnast Tokyost kirde suunas 375 km kaugusel. a) Tähista see kaardil. b) Viiruta samal kaardil piirkond, mis sai tsunamis kannatada. 2p

9. Maavärina tekitatud tsunamilaine levis üle Vaikse ookeani, laine keskmiseks liikumiskiiruseks on 700 km/h. a) Mis kell jõudis tsunamilaine Midway saartele?..... 4p

b) Mis kell ligikaudselt jõudis laine Tšiili rannikule ? Tee õige valik.

- A) 14 tunni pärast B) 18 tunni pärast C) 22 tunni pärast D) 26 tunni pärast



10. Mis loodusvööndis kasvavad järgmised kultuurid?

2p

Kohvipuu

Kautšukipuu

11. Vaata fotosid lisalehel. Pildil A on toodud vaade Otepää linnamäelt 1920. aastatel. Võrdluseks on toodud sama piirkonna tänane aerofoto B. a) Vii kokku objektid pildil ja satelliidifotol. Märgi vastavad numbrid aerofotole. b) Mis muutused maastikus on selles piirkonnas vahepeal toimunud?

6p

.....

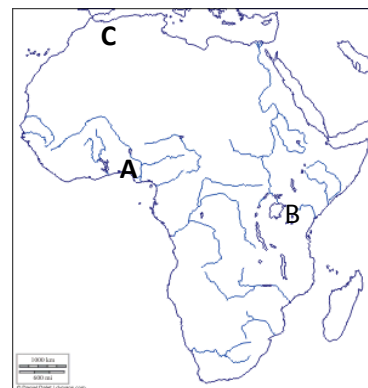
12. Kaardil on tähistatud kolm väga tiheda asustusega piirkonda Aafrikas. Miks just nendesse piirkondadesse on koondunud väga palju inimesi? 3p

A.

B.

C.

.....



13. Miks on maailma suurima teleskoobi asukohaks valitud just Atacama kõrb? 2p

2p

.....

14. Loetle ookeanipõhja pinnavorme. Tähistage need vastava numbriga lisalehe kaardil 2. 4p

4p

1. 2.

3. 4.

15. Mida on kujutatud lisalehel oleval koomiksil? 1p


1p

.....

Lisaleht
MÜTSID



1.



2.



3.



4.

Kaart 1

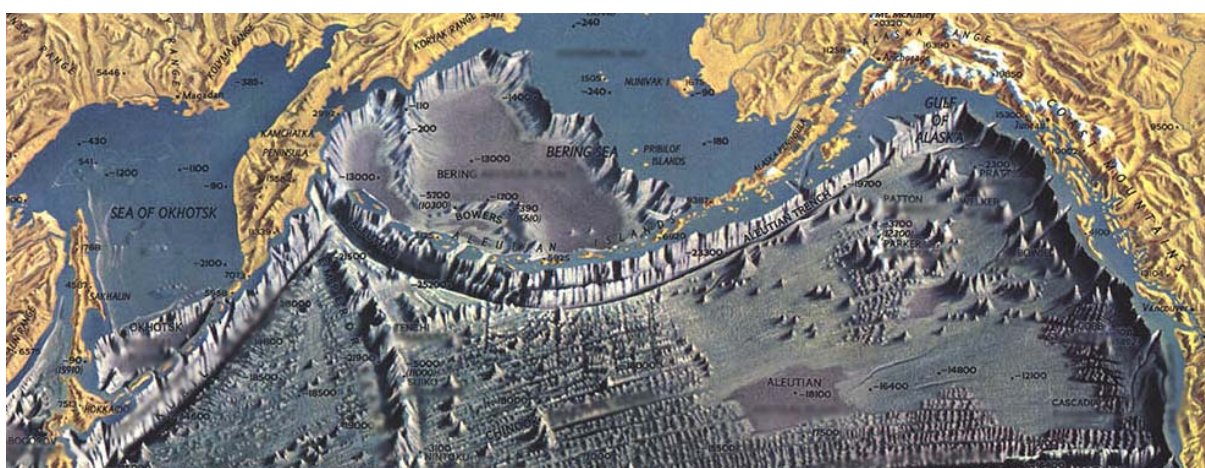



Koomiks



Pildid A, B, C





Kaart 2. Maailmamere põhjareljeef.